

Итоговая аттестация по технологии за 3 класс

Ф.И. \_\_\_\_\_ Дата \_\_\_\_\_ Класс 3 «В»

Ответь на вопросы теста. Выбери правильный ответ и обведи его.

**1. Какое утверждение верное?**

- А) Материалы – это линейка, клей, ножницы.
- Б) Материалы – это бумага, нитки, проволока.

**2. Какое утверждение верно?**

- А) Инструменты – это линейка, клей, картон.
- Б) Инструменты – это игла, ножницы, треугольник.

**3. Укажи, что НЕ относится к природным материалам:**

- А) листья    Б) желуди    В) бумага

**4. Кто проектирует здания?**

- А) архитектор    Б) строитель    В) скульптор

**5. Какую операцию невозможно выполнить на компьютере:**

- А) демонстрация изображения и звука
- Б) приготовление пищи
- В) создание новых программ

**6. Выбери название материала, с которым НЕ работает скульптор**

- А) краски    Б) гранит    В) глина

**7. Какими приемами пользуется скульптор**

- А) вдавливание    Б) налlep    В) раскрашивание

**8. Какую ткань получают из химических волокон?**

- А) искусственную    Б) шелковую    В) льняную

**9. Каких видов ниток не бывает?**

- А) швейные    Б) вязальные    В) ручные

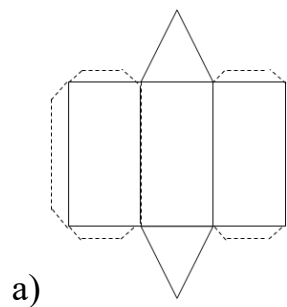
**10. Выбери, всех кто работает с тканью:**

- А) закройщица    Б) швея    В) архитектор
- Г) повар    Д) портниха    Е) художник-модельер

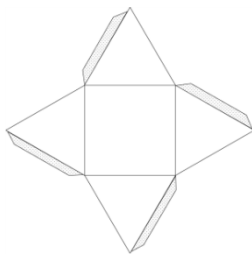
**11. Как правильно передавать ножницы?**

- А) кольцами вперед    Б) кольцами к себе

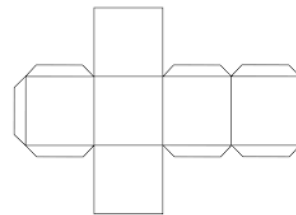
**12. Выбери развертку куба**



б)



в)



**13. Установите соответствие:**

Инструмент

Иголка  
Циркуль  
Пяльцы  
Крючок  
Линейка

Назначение инструмента

Вязание  
Шитье  
Измерение длины  
Вышивание  
Построение окружности